





PÍĎALKY

2.C

7. týdenní plán

jméno _____



Předmět	sudý týden: 14. - 18. 10. 2024	Hodnocení	
M 	PS 1. díl do str. 21 Počítám příklady z šipkového zápisu. Vypočítám dvojnásobek a polovinu.		
ČJ 	PS 1. díl do str. 19, Uč. do str. 31 Vysvětlím na příkladu slovo nadřazené, podřadné a souřadné. Píšu psacím velké C, S, Z.		
SKN 	Bez opory učebnice Vysvětlím, k čemu mají ptáci různé zobáky. Rozhodnu, čím můžu přikrmit ptáky.		
AJ 	Unit 1,2 review: Zmapuji si a ověřím, co umím a co ještě potřebuji procvičit.		

1. aaa

1. Napiš psacím písmem název pěti plodin, které dozrávají na podzim.

2. Napiš k řadě slov slovo nadřazené.

a) jablko, hruška, ananas, citron _____

b) tesař, malíř, učitel, lékař _____

c) žito, ječmen, pšenice, oves _____

3. Očísluj podle abecedy. Podtrhni podle písmena, které rozhodlo pořadí.

MOTÝL, MOST, MALÍŘ, MRAK, MYŠ, KROKODÝL

4. Ke každé skupině dopiš další 3 slova souřadná.

- a) kleště, hoblík, šroubovák _____
- b) stůl, knihovna, skříň _____
- c) Hanka, Magda, Honzík _____
- d) rohlík, bábovka, houska, buchta _____

1. Škyt'ák má 9 draků. Astrid má jen 5 draků.
Kolik draků má dát Škyt'ák Astrid, aby měli stejně?

Příklad: _____

Odpověď: _____



2. Vypočítej.

Dvojnásobek z 6 je _____

Dvojnásobek z 9 je _____

Dvojnásobek ze 4 je _____

Polovina ze 14 je _____

Polovina z 18 je _____

Polovina z 20 je _____

3. Doplň šipky a zapiš příkladem.

9 →→→→→ 15	9 + 6 = 15
18 21	_____
 →→→→ 13	_____
15 9	_____
19 →→ 	_____
 ←←←← 12	_____



Matematika https://www.umimematiku.cz/roboti-scitani-a-odcitani-do-20?source=explicitKC&topic=cviceni-scitani-a-odcitani-do-20	Čeština https://www.umimecesky.cz/pexeso-slova-nadrazena-podrazena-1-uroven/764
---	--